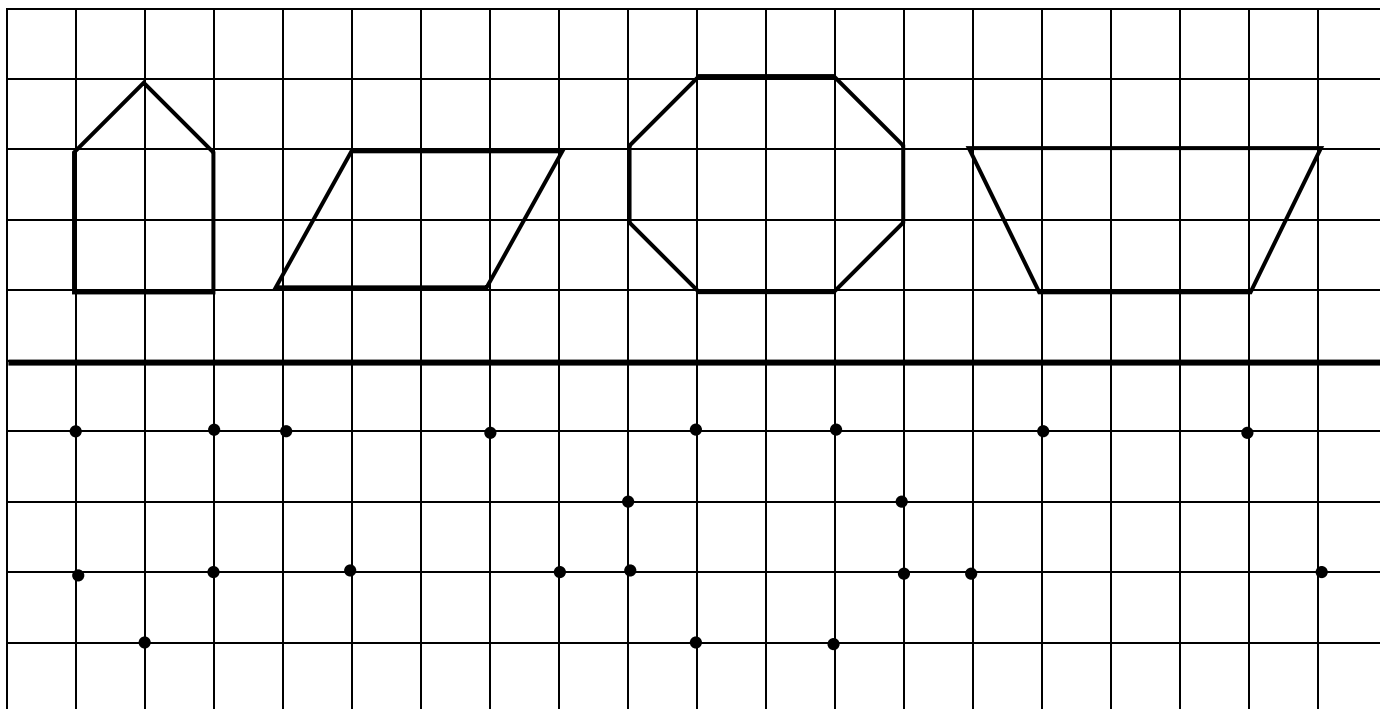


نام و نام خانوادگی: .....


دبستان سادات

پایه: دوم

۱ نقطه های پایین خط را طوری به هم وصل کن؛ که شکل های بالا رسم شود؛ به طوری که اگر از روی خط تا کنیم، شکل ها روی هم بیفتند.



۲ سعید ۳ مداد به رنگ های قرمز، آبی و سبز دارد. او به چند شکل می تواند از هر سه مداد خود استفاده کند و شکل های زیر را رنگ کند؟



۳ با کارت های ۱، ۹ و ۰ هر چه می توانی عدد های دو رقمی بساز و در جای خالی بنویس.

حالا بزرگترین و کوچکترین عدد دو رقمی که ساختی را بنویس.

کوچکترین



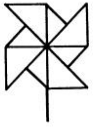
بزرگترین



۴ با رقم های ۲، ۵، ۰ و ۷ عدد های دو رقمی بساز که بیش تر از ۲۸ باشد.

۵

معلم به دانش آموزان کاغذ رنگی به رنگ های قرمز ، آبی ، بنفش و سبز و نی هایی به رنگ های زرد و صورتی داده است . دانش آموزان چند فرفره می توانند بسازند که رنگ تکراری نداشته باشد ؟



۶

همه ی عدد های دو رقمی را که می توان با رقم های ۵ و ۶ برای یکان و ۸ و ۹ برای دهگان نوشت را بنویس .

۷

ابتدا رابطه ی هر عدد را پیدا کن و بنویس و سپس الگو را ادامه بده .


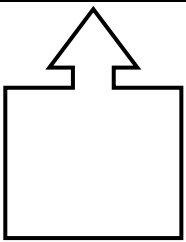
۲۴ ، ۲۹ ، ۳۴ ، ۳۹ ، \_\_\_\_\_ ، \_\_\_\_\_ ، \_\_\_\_\_ ، \_\_\_\_\_

۴ ، ۶ ، ۱۰ ، ۱۶ ، \_\_\_\_\_ ، \_\_\_\_\_ ، \_\_\_\_\_ ، \_\_\_\_\_

۲ ، ۳ ، ۵ ، ۸ ، \_\_\_\_\_ ، \_\_\_\_\_ ، \_\_\_\_\_ ، \_\_\_\_\_

۸

گوشه های هر یک از شکل ها رنگ کن . تعداد هر کدام را در جای خالی بنویس .



۹

برای عبارت داده شده مسئله بساز و سپس آن را حل کن .

$$\begin{array}{r} 48 \\ + 34 \\ \hline \end{array}$$

\_\_\_\_\_

\_\_\_\_\_