



" به نام فدایی که سر شار از آرامش است "

## تابستانه ی شماره ی ۱

پسرهای فوبیم سلام !

اندیشیدن با هواس پرتی به درستی انجام نمی شود . لازمه ی اندیشیدن ، هواس جمع است .

به فایل صوتی " یک قهوه ، یک آیه " با دقت گوش کن ؛ سپس به سؤال های زیر پاسخ بده .

★ هدی چه چیزی در دست داشت ؟

★ چرا کره ی زمین به دور خود می چرخد ؟

★ کره ی زمین به غیر از این که به دور خود می چرخد ، به دور چه چیز دیگری نیز می چرخد ؟

★ فصل ها چگونه به وجود می آید ؟

★ به نظر هدی اگر کره ی زمین نمی چرخید چه اتفاقی می افتاد ؟

★ با دیدن گردش کره ی زمین چگونه می فهمیم که خدا مهربان است ؟

★ چه کسی کشف کرد که کره ی زمین گرد است ؟

★ گالیله ، چگونه مجازات کردند ؟

★ فیلی قبل تر از گالیله ، در چه چیزی به گرد بودن کره ی زمین اشاره شده است ؟

★ مشرق به کجا گفته می شود ؟

★ به نظر هدی قرآن چگونه کتابی است ؟



★ با توجه به آیه ی قرآن ، چگونه می فهمیم که کره ی زمین گرد است ؟

★ ضرب المثلی بنویس که در آن کلمه ی زمین به کار رفته باشد ؟

★ ضرب المثلی که نوشته ای در چه زمانی استفاده می شود ؟

★ در بارهی گاليله تحقیق کن و در چند سطر بنویس .

★ کره ی زمین زیر را رنگ کن ؛ و با توجه به خورشید ، شب و روز را روی کره ی زمین نشان بده .



★ رضا در دبستان سادات درس می خواند . او در ماه آبان ۵ روز به مدرسه نرفته است . او چند روز غایب بوده است ؟

★ زمین به طور تقریبی با سرعت ۱۶۰۰ کیلومتر در ساعت می چرخد . با ارقام این عدد بزرگترین و کوچکترین عدد سه رقمی را بساز و سپس اختلاف این دو عدد را به دست آور . ( بدون تکرار ارقام )



★ تولد رضا ۲۵ دی ماه است . امروز روز اول شهریور است . تا روز تولد رضا چند روز باقی است ؟



★ مادر رضا برای پذیرایی در تولد او پرتقال و نارنگی خرید . رضا ۴ نفر از دوستانش را دعوت کرد . مادر در هر بشقاب ۲ عدد نارنگی و یک عدد پرتقال گذاشت . دوستانش نارنگی های هر بشقاب را خوردند ؛ چند عدد پرتقال باقی مانده است ؟

★ احمد از روز دوم فروردین تا پایان روز یازدهم فروردین روزی ۵ آیه از قرآن را می خواند . او در این مدت چند آیه از قرآن را می خواند ؟

★ فرگوشی هر یک ربع ساعت ۱۸۵ سانتی متر می دود . این فرگوش در یک ساعت چند سانتی متر



می دود ؟



★ دو لاک پشت با سرعت ۷۵ سانتی متر در دقیقه به طرف هم حرکت کردند . پس از ۲ دقیقه به هم

رسیدند . فاصله ی بین آن دو چند سانتی متر بوده است ؟ ( سرعت ۷۵ سانتی متر در دقیقه یعنی ۷۵

سانتی متر در یک دقیقه حرکت می کند . )



★ معصومه ۲۰ دقیقه در راه بود . او ساعت ۲ : ۰۵ از مدرسه به خانه رسید . معصومه چه ساعتی از مدرسه

فارغ شد ؟ ( راه حل نوشته شود . )

ج ( یک ربع به ۲

ب ) ۱ : ۵۰

الف ) ۲ : ۲۵

★ حاصل کد ۴۱ جمع زیر ، با بقیه فرق دارد ؟ ( هر دو عدد را به صورت ستونی زیر هم نوشته و حل شود . )

ج (  $۸۲۳ + ۱۱۴$

ب )  $۴۵۱ + ۵۱۶$

الف )  $۳۲۳ + ۶۴۴$

★ سعید ۲۵۶ دانه لوییا را فیس کرد تا آن ها را بکارد . او ابتدا ۶۰ دانه بر می دارد که ۸ تای آن ها

ناسالم و بقیه را می کارد . در مرحله ی بعد ، سعید ۱۷ دانه ی سالم را می کارد . او در مجموع چند دانه کاشته و چند دانه را هنوز نکاشته است ؟

★ حسین یک کیسه ی آجیل دارد که شامل ۱۰ بادام ، ۵۰ فندق ، ۶۰ پسته و ۱۰۰ تفرمه است . اگر حسین بفواهد بدون نگاه کردن ، بادام از کیسه در بیاورد ، با چه احتمالی آجیل در آمده از کیسه بادام است ؟

★ احمد و امیر با کارت رقم های زیر بازی می کردند . امیر بزرگترین عدد سه رقمی فرد و احمد کوچکترین عدد سه رقمی زوج را ساخت . عددی که امیر ساخت چه قدر از عدد احمد بزرگ تر است ؟



★ زهرا ۱۷۰ سانتی متر قد دارد . خواهرش از او ۱۵ سانتی متر کوتاه تر است . قد خواهر زهرا چند سانتی متر است ؟ ( راه حل نوشته شود . )

ج ( ۱۵۵ )

ب ( ۱۸۵ )

الف ( ۱۵۰ )

★ کدام عبارت برابر عدد سیصد و هفتاد و پنج است ؟

الف ( ۴ دسته ی صدتایی ، ۵ دسته ی ده تایی و ۷ یکی . )

ب ( ۷ دسته ی ده تایی ، ۳ دسته ی صدتایی و ۵ یکی . )

ج ( ۵ دسته ی صدتایی ، ۷ دسته ی ده تایی و ۳ یکی . )

★ اگر مغازه داری ۳۰ تا سکه ی ۱۰ ریالی به بانک برده ، چند سکه ی ۱۰۰ ریالی به او می دهد ؟

ج ( ۳۰ تا )

ب ( ۳۰۰ تا )

الف ( ۳ تا )

۹	۹	۹	۹	۹	۹	۹	۹	۹	۹
۹	۹	۹	۵	۱	۲	۹	۹	۵	۹
۹	۹	۹	۱	۱	۹	۹	۹	۱	۹
۹	۹	۵	۱	۱	۳	۹	۵	۷	۹
۹	۶	۱	۱	۱	۱	۳	۱	۲	۹

★ به خانه های نمونه در کنار جدول ، نگاه کن .

هر خانه ی جدول را با توجه به شماره ی آن و

نمونه ی کنار رنگ کن .



(۱)

(۲)



(۳)

(۴)

(۷)

(۹)



(۵)

(۶)

(۸)

★ حالا نیمه ی دیگر شکل را طوری کامل کن که وقتی شکل را از روی فط مشکلی تا بزیم دو نیمه روی هم قرار بگیرند و هم دیگر را پوشانند .

طرح به دست آمده شبیه چیست ؟ .....

★ فکر می کنی چه چیزی در شکل به دست آمده اضافه کنیم تا کامل تر شود و تقارن آن نیز ، به هم نفورد ؟ .....

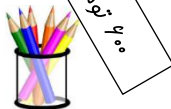
★ به سلیقه ی خودت طوری شکل را رنگ کن که تقارن آن مفظ شود .

★ سبانه و سجاد در تعطیلات تابستان می خواهند به شهر مقدس مشهد بروند . آن ها می خواهند برای دوستان خود رضا و احمد سوخاتی بفرند . پول آن ها ۹۵۰ تومان است . آن ها را راهنمایی کن که چه چیزهایی می توانند با تمام پول خود انتخاب کنند .

۷۸۰ تومان




۲۶۰ تومان



۹۰ تومان

۹۱۰ تومان



۱۷۰ تومان

۳۵۰ تومان



۶۹۰ تومان



۱ -

۲ -

۳ -

زمان تحویل : چهارشنبه ۵ / ۴ / ۹۸