




به نام خدا



تاپستانه ی شماره ی ۲

دوست خوبم سلام

امیدوارم از اوقات فراغت تاپستان به خوبی استفاده کنی و همیشه شاد و پانشاط باشی

داستان زیر را بخوان و به سوال های مربوط به آن جواب بده .

➤ در یک روستای زیبا پسری به نام حسن زندگی می کرد. حسن خیلی به حیوانات علاقه داشت .

او در خانه سه مرغ داشت که اسم آن ها را حنایی ، گلی و سفید پرفی گذاشته بود . حسن ۲ تا خروس و ۴ تا
پرنده داشت. حنایی هفته ای ۳ تا تخم و گلی و سفید پرفی هر کدام ۲ تا تخم در هفته می گذاشتند.
حسن هر روز که از مدرسه می آمد به حیواناتش آب و غذای داد و با آن ها مهربانی می کرد.
او هیچ وقت با حیواناتش بد رفتاری نمی کرد.

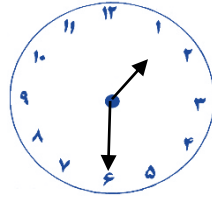


➤ حالا به سوال ها جواب بده

۱- حسن چند حیوان داشت؟

۲- مرغ های حسن در یک هفته روی هم چند تا تخم می گذاشتند؟

۳- حسن چند تا مرغ دیگر باید بخرد تا تعداد مرغ ها بیش از ۱۰ (تا شود)؟



ساعت

❖ پاکشیدن دو خط راست، این ساعت را به دو قسمت تقسیم کنید. اما دقت کنید که حاصل جمع عددهای هر قسمت باید باهم مساوی باشند.

یک ساعت طول می کشد که حمید به فروشگاه برسد. اگر ساعت چهار بعد از ظهر راه پیفتد، نیم ساعت بعد از تعطیلی فروشگاه می رسد. اگر ساعت هشت صبح راه پیفتد، نیم ساعت قبل از باز شدن فروشگاه می رسد. فروشگاه از چه ساعتی تا چه ساعتی باز است؟



در مغازه ی میوه فروشی ۹۰۰ کیلو گرم میوه بود. ۲۷۴ کیلو گرم هندوانه و ۱۸۳ کیلو گرم خربزه و ۳۹۷ کیلو گرم گرمک بود. فکر می کنی چند کیلو گرم از میوه ها می تواند زردآلو باشد؟

اگر میوه فروش ۱۶۶ کیلو گرم هندوانه و ۹۰ کیلو خربزه و ۱۷۸ کیلو گرم گرمک و ۲۴ کیلو گرم زردآلو بفروشد،

(الف) او چند کیلو گرم میوه فروخته است؟

(ب) چند کیلو از میوه ها در مغازه مانده است؟

جدول

این جدول دو طرفه است. از دو طرف می توانی جدول را حل کنی.

در یکی از ستون های جدول ترجمه ی حدیثی به فارسی از پیامبر اکرم (ص) قرار دارد.

رمز جدول را پیدا کن . رمز

از حروف الفبا				اسلاح بعضی از حیوانات
از واحد های وزن				ناپودی و نیستی
اجداد				اشاره به نزدیک
بسیار کوچک				صدای کوتاه و نرم
بدون حرف آخر بیست				از میوه های تابستان
وسیله ی الکترونیکی				صدای عقربه های ساعت
برداشت محصول				دعای زیر لب
کاشتن انفجاری				نصف
از رنگ ها				خط دوخت پارچه
عقیده و نظر				رفیق و دوست
حمام تک نفری				کشتی جنگی
بهره ی پول				مادر پاران
واحد شمارش حیوانات				از پرندگان
قصد و آهنگ				از سوره های قرآن

زمان جمله را به گذشته ی دور تغییر بده . " محسن دیشب به مهمانی رفت . "

محسن ماه گذشته

زهرا و فاطمه به اردو رفته اند. مادر برای آن ها در ساکشان روی هم ۲۵ سیب و گلابی گذاشته بود. در اتوبوس، زهرا یک سیب و سه گلابی و فاطمه سه سیب و دو گلابی را خوردند. در اردوگاه آن ها متوجه شدند که تعداد سیب ها و گلابی های باقی مانده در ساکشان باهم برابر است. مادر چند گلابی به آن ها داده بود؟

۲۰ (۴)

۱۶ (۳)

۱۳ (۲)

۱۲ (۱)

می دانیم یک پشه ۶ پا و یک عنکبوت ۸ تا پادارند. دو پشه و سه عنکبوت روی هم به اندازه ی ۱۰ پرنده و چند گربه پا دارند؟


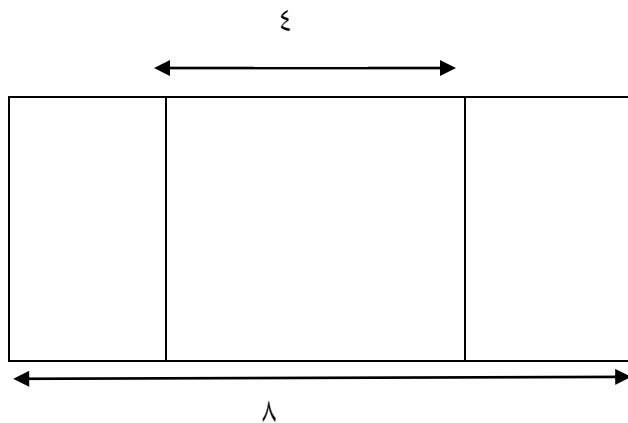
۴ (۴)

۶ (۳)

۳ (۲)

۲ (۱)

درازای یک تخته سیاه سه تکه ۸ متر است. اگر درازای تکه ی وسط که به شکل مربع است ۴ متر باشد و درازای دو قطعه ی دیگر باهم برابر باشند، درازای تکه ی سمت راست چند متر است؟



اندازه ی قد محمد ۲۰ سانتی متر از اندازه ی قد علی و ۵۰ سانتی متر از اندازه ی قد حسن بلند تر است. قد علی چند سانتی متر از قد حسن بلند تر است؟

دو خط تقارن این شکل را بکش. سپس در هر قسمت این مستطیل، دو مثلث و سه دایره طوری بکش که چهار طرف هر شکل همچنان تقارن داشته باشد؛



هر پیراهن پسرانه ۶ دکمه و هر پیراهن دخترانه ۴ دکمه لازم دارد. خیاط ۸ دکمه را به ۸ پیراهن دوخت. چند تا از این پیراهن ها پسرانه و چند تا دخترانه است؟ (حدس های خود را بنویس.)



فایل صوتی روی سایت دبستان سادات را گوش کن و برای آن ۴ سوال پاسخ بده.

(سوال ها با کلمه های پرسشی آیا شروع نشود.)

سوال ۱

سوال ۲

سوال ۳

سوال ۴

تاریخ تحویل پیک ۱۹ تیرماه

با حضور آموزگاران پایه دوم در مدرسه

از ساعت ۸ تا ۱۰ صبح

منتظر فرزندان عزیزمان هستیم.