

درس ریاض

۱ طبق آمار بازی شب گذشته، دو بازیکن خط حمله تیم فوتبال منچستر یونایتد در مسابقه شب گذشته $۱۲\frac{۱}{۳}$ و $۱۰\frac{۲}{۵}$ کیلومتر دوندگی داشته اند. ولی دو بازیکنان خط حمله تیم پاریس سن ژرمن $۹\frac{۳}{۷}$ کیلومتر و $۱۳\frac{۱}{۳}$ کیلومتر دوندگی داشته اند. اختلاف دوندگی دو بازیکن خط حمله در کدام تیم بیشتر است؟ در مجموع خط حمله تیم منچستر یونایتد بیشتر دوندگی داشته است یا خط حمله تیم پاریس سن ژرمن؟



۲ یک مسئله فوتبالی بنویسید که پاسخ آن عبارت $۶ \times \frac{۲}{۵}$ باشد. پاسخ را با رسم شکل نشان دهید.

۳ یک مسئله فوتبالی بنویسید که پاسخ آن عبارت $۶ \div \frac{۲}{۵}$ باشد. پاسخ را با رسم شکل نشان دهید.

۱۴ یک فرد نیکوکار خمس زمین خود را که خارج از شهر قرار داشت به وزارت ورزش و جوانان هدیه داد. و وزارت ورزش و جوانان هم یک سوم از این زمین بزرگ را برای ساخت یک ورزشگاه استفاده کرد. اگر کل زمین ۳۰ هزار متر مربع باشد، ورزشگاه فوتبال چه مساحتی خواهد داشت؟



۵ باشگاه رئال مادرید تا ماه سوم امسال $\frac{2}{7}$ درآمد سال گذشته خود را و باشگاه بارسلونا در همین مدت $\frac{1}{5}$ از درآمد سال گذشته خود را برای خرید بازیکنان جدید خرج کرده اند. به نظر شما برای کدام باشگاه پول بیشتری باقی مانده است؟



۶ به جای آنکه عددی را در $\frac{1}{5}$ تقسیم کنیم می توانیم آن را در ضرب کنیم.
 به جای آنکه عددی را بر ضرب کنیم می توانیم آن عدد را بر $\frac{2}{7}$ تقسیم کنیم.

۷ کسر $\frac{2}{3}$ به کدام کسر های زیر نزدیک تر است؟

$\frac{3}{4}$	$\frac{4}{7}$	$\frac{1}{3}$	$\frac{5}{9}$	$\frac{6}{11}$
---------------	---------------	---------------	---------------	----------------

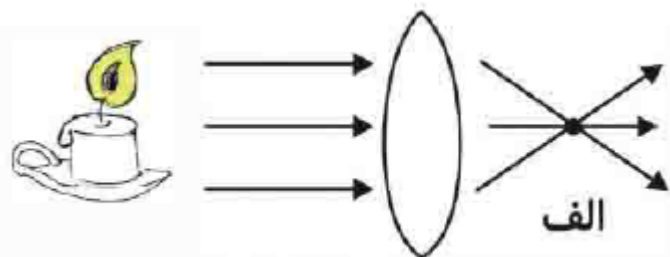
۸ سه تا از کسر های زیر با هم برابرند و یکی از آن ها با بقیه برابر نیست. با دلیل مشخص کنید.

$\frac{4}{7}$	$\frac{12}{21}$	$\frac{20}{9}$	$\frac{60}{105}$
---------------	-----------------	----------------	------------------

درس علوم

۱ ما انسانها چگونه یک چیز را می بینیم و آن را درک می کنیم؟

۲ تصویر شمع داده شده را در طرف دیگر عدسی رسم کنید.



۳ با رسم شکل نشان دهید که برای چشم نزدیک بین چه نوع عدسی استفاده می کنند؟

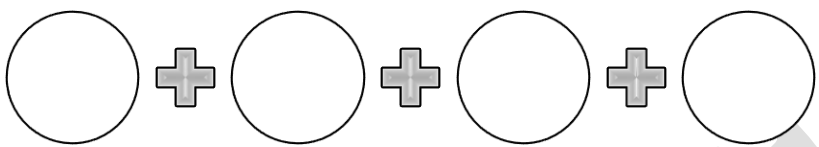

۴ بین کوره آفتابی و ذره بین چه تفاوت و چه شباهتی وجود دارد؟

۵	<p>وقتی یک جسم در جلوی چشم ما قرار می گیرد، تصویر جسم روی شبکیه به چه صورتی تشکیل می شود؟ ما چگونه تصویر را در مغزمان درک می کنیم؟</p>
۶	<p>یکی از آزمایشهای جالبی که در مورد نور در آزمایشگاه انجام دادید را به طور خلاصه (در دو خط) توضیح دهید. چه نتیجه ای از این آزمایش گرفتید؟</p>
<h3>درس فارسی</h3>	
۱	<p>عبارت " راست گفتند که تا احمق در جهان است، تنبل در نمی ماند " کدام آرایه ادبی را دارد؟ الف) تشخیص ب) کنایه ج) مراعات النظیر د) تضاد</p> <p>در مورد معنی و کاربرد عبارت بالا دو سطر توضیح دهید</p>
۲	<p>با چهار کلمه خورشید، درخت، خاک و آب جمله هایی بنویس که با یکدیگر یک متن را تشکیل دهد.</p>
۳	<p>چه احساسی خواهید داشت ؟</p> <p>۱) هنگامی خشمگین می شوید، رنگ موی شما قرمز می شود. ۲) وقتی راه می روید، کفش شما موسیقی بنوازد. ۳) وقتی که با مداد می نوشتی، با تو حرف می زد.</p>
۴	<p>علایم نگارشی مناسب را در جای خالی بگذارید . لقمان را گفتند ادب از که آموختی گفت از بی ادبان هر چه از ایشان در نظرم ناپسند آمد از فعل آن احتراز کردم</p>
۵	<p>برای اتفاق زیر عنوانی انتخاب کن و آن را دامه بده. گریبه ای برای یافتن نشانی ، کاغذی در دست دارد. نمی داند از کدام طرف باید برود. سرگردان است.....</p>

درس مطالعات اجتماعی

۱	به نظر شما در عید نوروز کدام دسته از مردم خوشحال اند و کدام دسته از مردم ناراحت؟ چرا؟
۲	خاندان شما چند نفره است؟ (خاندان یعنی همه اقوام مثل دایی ها و خاله ها و عمو ها و عمه ها و فرزندانشون و نوه هاشون و ...) به نظر تان خاندان شما پرجمعیت است یا نه؟ خوبی ها و بدی های این جمعیت چیست؟
۳	نصف النهار و مدار و فایده هر کدام را برای پدر و مادر تان کامل توضیح دهید تا آنها خوب یاد بگیرند.
۴	نام کوه های مهم مکه و دلیل اهمیت آنها را بنویسید.

درس هدیه های آسمانی

۱	 <p>بر اساس حدیث پیامبر اکرم (ص) در درس سوم ، بهترین زنان بهشت را نام ببرید :</p> <p>* یکی از این چهار زن والامقام با بقیه یک تفاوت بزرگ دارد. کدام یک ؟ چه تفاوتی ؟</p>
۲	<p>با چه کسی همنشین شویم ؟</p> <p>دیدارش ←</p> <p>رفتارش ←</p> <p>گفتارش ←</p> 
	<p>تاریخ پاسخگویی به سوالات :</p> <p>تاریخ امضای ولی :</p> <p>محل امضای ولی :</p>

مهم نیست چند بهار زندگی می کنیم !

مهم اینه که بهاری زندگی کنیم !!!