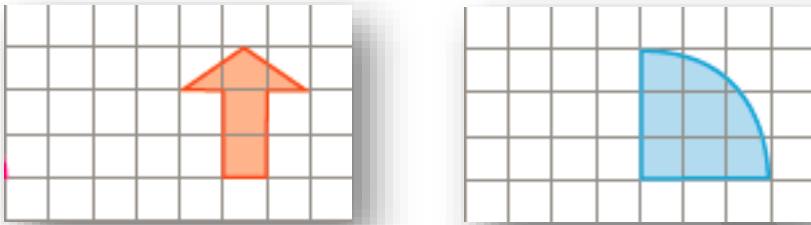


درس ریاض

۱ کدام لوگو های باشگاه های فوتبال زیر تقریباً تقارن محوری یا مرکزی دارد؟ (بدون در نظر گرفتن نوشته ها و به صورت تقریبی)



۲ خطی عمودی در کمترین فاصله از سمت چپ شکل رسم کنید و قرینه محوری شکل را نسبت به خطی که کشیدید رسم کنید.

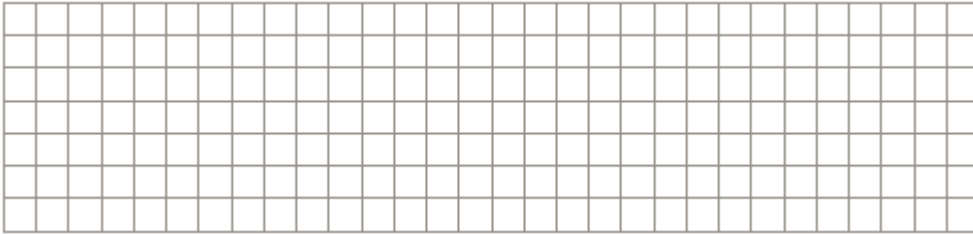


۳ یک متوازی الاضلاع با قطر های ۱۰ و ۴ سانتی متر رسم کنید.

۴ یک زاویه ۷۰ درجه و یک زاویه ۱۶۰ درجه با نقاله رسم کنید و نیم ساز هر دو زاویه را با نقاله رسم کنید.

۵ مربی تیم استقلال از ۴ بازیکن تیم خواسته است که به صورت یک چهار ضلعی ایستاده و با هم توپ را پاس کاری کنند. چهار ضلعی که از قرار گرفتن این ۴ بازیکن ایجاد می شود زاویه های داخلی ۳۰ درجه، ۵۰ درجه، ۱۲۰ درجه دارند. چهارمین زاویه چند درجه است؟

۶ در شکل زیر دو شکل دلخواه رسم کنید و تقارن مرکزی شکل خود را نسبت به نقطه ای دلخواه رسم کنید.



۷ تمام خصوصیات خانواده شکل های هندسی متوازی الاضلاع را بنویسید .

۸ مربعی با قطرهای ۲ رسم کنید و مساحت آن را حساب کنید .

درس علوم

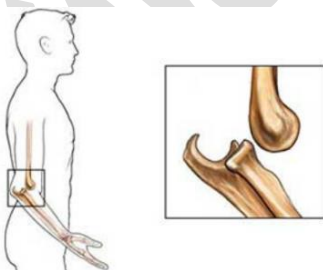
۱ چرا می گویند ماهیچه ها با هم عمل متقابل دارند؟ این مطلب در مورد کدام ماهیچه ها گفته می شود؟



۲ به نظر شما چرا بیشتر اندام های حسی ما در سر قرار گرفته است؟

۳ در رفتگی به چه معناست؟

چه قسمتی از بدن مانع دررفتگی می شود؟



۴ عمل انعکاسی چیست؟

اگر کسی (خدای ناکرده) قطع نخاع شود ، چه مشکلی برای او به وجود می آید؟ چرا؟

۵	<p>آیا وقتی در خواب هستیم مغز ادامه فعالیت می دهد؟ چند مورد از فعالیت های مغز را بنویسید.</p>
۶	<p>برای این که استخوان آسیب دیده درست جوش بخورد و ترمیم شود چه باید کرد؟</p>
درس فارسی	
۱	<p>کدام گزینه واژه غیر ساده نیست. الف) هراس انگیز ب) شبانگاه ج) کتابخانه ای د) خان بزرگ</p>
۲	<p>وضعیت زیر را پر آب و تاب و خنده آور توصیف کن. مردی برای پیدا کردن جوراب خود به دردرس افتاده است.</p>
۳	<p>منظور از لطیفه ی زیر چیست؟ کژدم را گفتند چرا به زمستان در نمی آیی؟ گفت: به تابستانم چه حرمت است که به زمستان نیز بیایم؟ (گلستان سعدی)</p>
۴	<p>قسمتی از یک شعر که نام آن برف و بهار است طراحی شده است. بقیه آن را به دلخواه ادامه بده .</p> <p>مادرم گفت: بهار آمده است خانه را جارو کرد پدرم گفت: زمستان باقیست برف را پارو کرد مادرم گفت: چه سبز است بهار</p> <p>.....</p>
۵	<p>آیا می دانی کتاب " امثال و حکم " درباره ی چیست و چه کسی آن را نوشته است؟</p>

درس مطالعات اجتماعی

۱	اگر در حین سفر ، جایی قنات یا چشمه یا رودی دیدید نام آن و محل آن را پرس و جو کنید و بنویسید.
۲	یک ساعت آفتابی بسازید. گزارش مراحل ساخت و عکس آن را با خود بیاورید.
۳	به نظر شما آیا در کشور عراق کشاورزی رونق دارد؟ چرا؟
۴	مختصات چهارتا از آثار باستانی اصفهان را بنویسید.(با استفاده از اینترنت و به کمک و نظارت پدر یا مادرتان)

درس هدیه های آسمانی

۱	<p>کدام یک از آیات زیر در روز عید غدیر نازل شده اند؟</p> <p><input type="checkbox"/> یا ایها الرسول بلغ ما انزل الیک من ربک ...</p> <p><input type="checkbox"/> انما ولیکم الله و رسوله و الذین ءامنوا ...</p> <p><input type="checkbox"/> الیوم اکملت لکم دینکم و اتممت علیکم نعمتی ...</p> <p><input type="checkbox"/> و انذر عشیرتک الاقربین</p> <p><input type="checkbox"/> سأل سائل بعذاب واقع</p> <p><input type="checkbox"/> و یطعمون الطعام علی حبه مسکینا و یتیما و اسیرا ...</p>
۲	چه ارتباطی میان آیه ی « و انذر عشیرتک الاقربین » و جمله ی « من کنت مولاة فهذا علی مولاة » وجود دارد ؟ ماجرای هر کدام از جملات چیست ؟

محل امضای ولی :

تاریخ پاسخگویی به سوالات :

تاریخ امضای ولی :

امیرالمومنین علیه السلام می فرمایند :

كُلُّ يَوْمٍ لَا يُعْصَى اللَّهُ فِيهِ فَهُوَ عِيدٌ

هر روزی که در آن نافرمانی خداوند انجام نشود ، آن روز عید است .