

درس ریاض

۱ طبق آمار بازی شب گذشته، دو بازیکن خط حمله تیم فوتبال منچستر یونایتد در مسابقه شب گذشته $۱۲\frac{1}{3}$ و $۱۰\frac{2}{5}$ کیلومتر دوندگی داشته اند. ولی دو بازیکنان خط حمله تیم پاریس سن ژرمن $۹\frac{3}{7}$ کیلومتر و $۱۳\frac{1}{2}$ کیلومتر دوندگی داشته اند. اختلاف دوندگی دو بازیکن خط حمله در کدام تیم بیشتر است؟ در مجموع خط حمله تیم منچستر یونایتد بیشتر دوندگی داشته است یا خط حمله تیم پاریس سن ژرمن؟



۲ یک مسئله فوتبالی بنویسید که پاسخ آن عبارت $۶ \times \frac{2}{5}$ باشد. پاسخ را با رسم شکل نشان دهید.

۳ یک مسئله فوتبالی بنویسید که پاسخ آن عبارت $۳ \div \frac{1}{5}$ باشد. پاسخ را با رسم شکل نشان دهید.

۴ یک فرد نیکوکار خمس زمین خود را که خارج از شهر قرار داشت به وزارت ورزش و جوانان هدیه داد. و وزارت ورزش و جوانان هم یک سوم از این زمین بزرگ را برای ساخت یک ورزشگاه استفاده کرد. اگر کل زمین ۳۰ هزار متر مربع باشد، ورزشگاه فوتبال چه مساحتی خواهد داشت؟



۵ باشگاه رئال مادرید تا ماه سوم امسال $\frac{2}{7}$ درآمد سال گذشته خود را و باشگاه بارسلونا در همین مدت $\frac{1}{5}$ از درآمد سال گذشته خود را برای خرید بازیکنان جدید خرج کرده اند. به نظر شما برای کدام باشگاه پول بیشتری باقی مانده است؟



۶ به جای آنکه عددی را در $\frac{1}{5}$ تقسیم کنیم می توانیم آن را در ضرب کنیم.
به جای آنکه عددی را بر ضرب کنیم می توانیم آن عدد را بر $\frac{2}{7}$ تقسیم کنیم.

۷ کسر به کدام کسرهای زیر نزدیک تر است؟

$\frac{3}{4}$	$\frac{4}{7}$	$\frac{1}{3}$	$\frac{5}{9}$	$\frac{6}{11}$
---------------	---------------	---------------	---------------	----------------

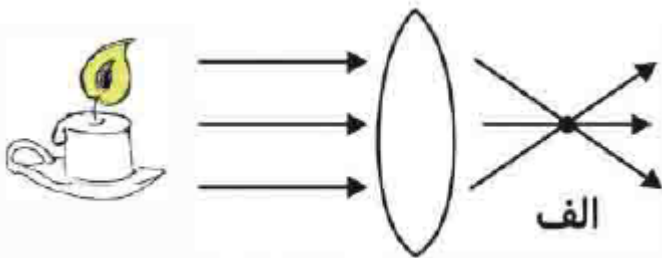
۸ سه تا از کسرهای زیر با هم برابرند و یکی از آن ها با بقیه برابر نیست. با دلیل مشخص کنید.

$\frac{4}{7}$	$\frac{12}{21}$	$\frac{20}{9}$	$\frac{60}{105}$
---------------	-----------------	----------------	------------------

درس علوم

۱ ما انسانها چگونه یک چیز را می بینیم و آن را درک می کنیم؟

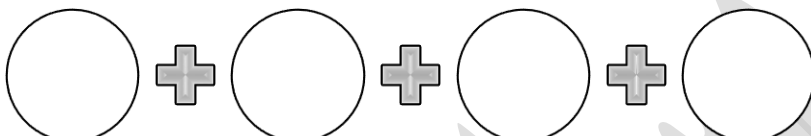

۲ تصویر شمع داده شده را در طرف دیگر عدسی رسم کنید.



۳ با رسم شکل نشان دهید که برای چشم نزدیک بین چه نوع عدسی استفاده می کنند؟

۴ بین کوره آفتابی و ذره بین چه تفاوت و چه شباهتی وجود دارد؟

۵	<p>وقتی یک جسم در جلوی چشم ما قرار می گیرد، تصویر جسم روی شبکیه به چه صورتی تشکیل می شود؟ ما چگونه تصویر را در مغزمان درک می کنیم؟</p>
۶	<p>یکی از آزمایشهای جالبی که در مورد نور در آزمایشگاه انجام دادید را به طور خلاصه (در دو خط) توضیح دهید. چه نتیجه ای از این آزمایش گرفتید؟</p>
درس فارسی	
۱	<p>عبارت " راست گفتند که تا احمق در جهان است، تنبل در نمی ماند " کدام آرایه ادبی را دارد؟</p> <p>الف) تشخیص ب) کنایه ج) تشبیه د) تضاد</p> <p>در مورد معنی و کاربرد عبارت بالا دو سطر توضیح دهید.</p>
۲	<p>با چهار کلمه خورشید، درخت، خاک و آب جمله هایی بنویس که با یکدیگر یک متن را تشکیل دهد .</p>
۳	<p>به نظر شما الان که ویروس کرونا یک تهدید برای ماست، چگونه می توان این تهدید را به فرصت تبدیل کرد؟</p>
۴	<p>علایم نگارشی مناسب را در جای خالی بگذارید .</p> <p>لقمان را گفتند ادب از که آموختی گفت از بی ادبان هر چه از ایشان در نظرم ناپسند آمد از فعل آن احتراز کردم</p>
۵	<p>برای اتفاق زیر عنوانی انتخاب کن و آن را نیز دامه بده.</p> <p>غریبه ای برای یافتن نشانی، کاغذی در دست دارد. نمی داند از کدام طرف باید برود. سرگردان است.....</p>

درس مطالعات اجتماعی	
۱	گروه را تعریف کنید و برای آن ۷ مثال متفاوت بنویسید. (۳خط)
۲	شکل یک قنات را روی یک برگه بزرگ رسم کنید و آن را به طور کامل برای پدر و مادر و دیگر اعضای خانواده تان توضیح دهید و عکس این فعالیت را ارسال نمایید.
۳	انواع راه ها و وسایل حمل و نقل مربوط به هریک را نام ببرید. (۳خط)
درس هدیه های آسمانی	
۱	 <p>بر اساس حدیث پیامبر اکرم (ص) در درس سوم ، بهترین زنان بهشت را نام ببرید :</p> <p>* یکی از این چهار زن والامقام با بقیه یک تفاوت بزرگ دارد. کدام یک ؟ چه تفاوتی ؟</p>
۲	<p>با چه کسی همنشین شویم ؟</p> <div style="display: flex; justify-content: space-around; align-items: center;"> <div style="text-align: center;">  <p>گفتارش</p> </div> <div style="text-align: center;"> <p>دیدارش</p> <p>فتارش</p> </div> </div>
محل امضای ولی :	تاریخ پاسخگویی به سوالات : تاریخ امضای ولی :

مهم نیست چند بهار زندگی می کنیم !

مهم اینه که بهاری زندگی کنیم !!!