

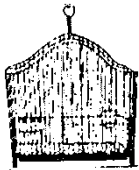


۱- سن پدرم ۳۶ سال است سن مهیار ربع سن پدرش است. اگر مادرش ۳ برابر او سن داشته باشد مهیار و مادرش هر یک چند سال دارند؟

۲- کتاب داستان سامان ۴۰ صفحه دارد. او خمس آن را خوانده است. او چند صفحه از کتاب را خوانده است؟ چند صفحه را نخوانده است؟

۳- پدر بزرگ ماهان و سامان یک کتاب ۳۶ صفحه ای به آن ها هدیه داد. ماهان ثلث صفحات آن و سامان هم به اندازه ی ربع صفحات کتاب را مطالعه کردند؟ هر یک چند صفحه مطالعه کرده اند؟ آن ها با هم چند صفحه مطالعه کرده اند؟


۴- آرمین ۱۶ سال و آرتین ۶ سال دارد. ۴ سال بعد آرمین چند برابر آرتین سن دارد؟



۵- تعدادی پرند را اگر در قفس های ۴ تایی قرار دهیم، ۶ قفس می شود و ۳ پرنده باقی می ماند. حالا اگر آن ها را در قفس های ۳ تایی قرار دهیم، چند پرنده می ماند؟




۶- یک طناب را ۳ بارش زده ایم اگر طول هر قسمت ۳۵ سانتی متر باشد، طول طناب اولیه چند سانتی متر بوده است؟ (از راه جدول)




۷- اگر روزی ۶ هواپیمای تهران به مشهد پرواز کند و ظرفیت هر پرواز ۲۵۰ مسافر باشد، در یک روز چند مسافر از تهران وارد مشهد می شوند؟ (از راه جدول)

۸- علی بانصف پول خود ۵ دفتر و ۴ خودکار خرید. اگر هر دفتر ۴۸۰ تومان و هر خودکار ۶۵۰ تومان خریده باشد تمام پول علی چند تومان بوده است؟ پول دفتر و خودکار را از راه جدول حساب کن.



۹- در یک مرغداری ۵۰ مرغ نگهداری می شود. اگر هر مرغ روزی یک تخم بگذارد، حساب کنید در طول یک هفته چند تخم مرغ در این مرغداری تولید می شود؟

۱۰- سن امیر محمد ۹ سال و ۴ ماه و ۷ روز است. سن علی چند روز است؟ (از راه جدول)
هر سال را ۳۶۵ روز و هر ماه ۳۰ روز در نظر بگیرید.



۱۱- یک مورچه خوارشکموهر روز ۲۵۰۰ مورچه می خورد. حساب کنید
این مورچه خوار در طول یک هفته چند مورچه می خورد؟ (از راه جدول)

۱۲- خواهر پارسا ۲۷ سال و پارسا ۱۸ سال دارد. پارسا چند سال از خواهرش کوچک تر است؟

۱۳- اگر از صدگان عددی یک واحد کم کنیم و به دهگان آن دو واحد اضافه کنیم آن عدد چه تغییری می کند؟
بامثال نشان دهید.

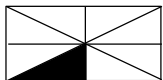
۱۴- مجموع پول امید و ایمان ۳۵۰۰ تومان است. اگر پدر آن ها به هر کدام ۳۵۰۰ بدهد، مجموع پول آن دو چند تومان می شود؟

۱۵- طنابی رابه شکل مستطیل در آورديم، طول آن ۶۰ و عرض آن ۴۰ میلی متر است. اگر آن رابه شکل لوزی در آوريم
اندازه ی هر ضلع آن
چند سانتی متر می شود؟


۱۶- اختلاف ثلث عدد ۲۴ و نصف عدد ۱۸ چند است؟

۱۷- مجموع خمس ۵۰ و نصف ۴۰ چند می شود؟

۱۸- اتوبوسی ۴۰ مسافر داشت. ربع آن ها ترمینال کاوه پیاده شدند. ولی به اندازه ی نصف باقی مانده مسافر
سوار شد. حالا چند مسافر در اتوبوس هستند؟



۱۹- مساحت قسمت رنگی چه کسری از مستطیل است؟
چه کسری رنگی نیست؟



۲۰- در یک مزرعه به ازای هر گاو دو گوسفند وجود دارد. اگر تعداد کل گاوها و گوسفندان
در این مزرعه ۳۰ راس باشد، حساب کنید در این مزرعه چند تا گاو و چند تا گوسفند زندگی می
کنند؟

دانش آموزان فعال و خلاق که در ساعات فراغت ایام نوروز فعالیت های هنری مانند کاردستی یا نقاشی انجام دهند

امتیاز ویژه ای از معلم هنر خود دریافت خواهند کرد .

ضمناً پس از ایام نوروز از این فعالیت ها نمایشگاهی برپا خواهد شد .