


سلام

با توجه به این که این تعطیلی برای آلودگی هواست پس برای سلامتی فرزندانمان لازم است از منزل خارج نشوند.

فردا چهارشنبه ۹۸/۰۹/۰۶ آزمون املا از درس اول تا پنجم برگزار میشود.

پس دانش آموزان امروز ضمن انجام تمرین های ریاضی تمرین املا نیز داشته باشند.

در صورتی که فردا تعطیل باشد برنامه آزمون ها متعاقبا اعلام میگردد.





به نام خدا

دبستان سادات

تمرین ریاضی دوم دبستان (فصل اول و دوم)

تاریخ:

نام و نام خانوادگی:

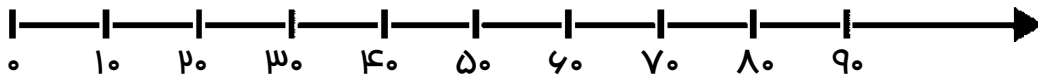
۱- با رقم های ۳ ، ۵ و ۸ هر چه قدر می توانی عدد دو رقمی بنویس.

.....

۲- یک عدد دو رقمی بنویس که یکان آن بزرگترین عدد یک رقمی و دهگان آن ۶ تا کمتر از یکان باشد.

.....

۳- عددهای ۸ ، ۲۷ ، ۵۲ و ۶۹ را روی محور به صورت تقریبی نشان بده و جاهای خالی را کامل کن.



عدد ۸ به نزدیک تر است یا به ؟


عدد ۲۷ به نزدیک تر است یا به ؟

عدد ۵۲ به نزدیک تر است یا به ؟

عدد ۶۹ به نزدیک تر است یا به ؟

۴- امین ۳ شلوار به رنگ های سبز ، قرمز و نارنجی دارد و ۲ کت به رنگ های آبی و مشکی دارد. او به


چند طریق می تواند این لباس ها را بپوشد؟



۵- همه ی عددهای دورقمی را که می توان با رقم های ۲ ، ۹ و ۰ برای یکان و ۳ و ۵ برای دهگان نوشت ،

پیدا کن.

۶- محمد در بشقاب ۹ شکلات میوه ای و ۷ شکلات کاکائویی گذاشت و ۴ تا از شکلات ها را خورد.
حالا چند شکلات در بشقاب است؟ (رسم شکل و راه حل)



۷- از عدد ۱ تا ۲ ساعت چند قسمت کوچک دیده می شود؟

اگر عقربه ی بزرگ ساعت از عدد ۲ تا ۵ جلو برود، یعنی دقیقه جلو رفته است.

۸- دسته ی ده تایی منهای ۳ دسته ی ده تایی می شود دسته ی ده تایی.





یعنی = - ۷۰

..... دسته ی ده تایی به اضافه ی دسته ی ده تایی می شود دسته ی ده تایی.

یعنی = ۴۰ + ۵۰

۹- حاصل جمع و تفریق ها را به روش فرایندی (گسترده) به دست آور.

$\begin{array}{r} 43 \\ + 37 \\ \hline \end{array}$	$\begin{array}{r} 56 \\ - 18 \\ \hline \end{array}$	$\begin{array}{r} 87 \\ - 58 \\ \hline \end{array}$	$\begin{array}{r} 73 \\ + 15 \\ \hline \end{array}$
---	---	---	---

 <p>ساعت ۷ : ۵۰ را نشان بده.</p>	 <p>ساعت چند است؟ و دقیقه</p>
 <p>ساعت ۳ : ۲۵ را نشان بده.</p>	 <p>..... :</p>