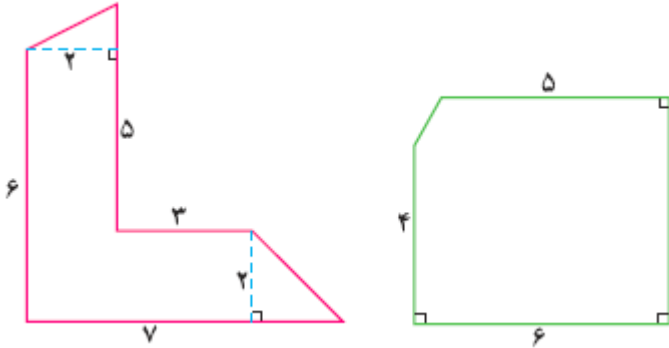


درس ریاض

۱ مساحت شکل های زیر را به دست آورید.



۲ در جلسه تمرین عصر دیروز تیم برایتون مربی از بازیکنان خواست که در یک مسیر دایره ای به دنبال هم بدونند. خود مربی در مرکز این دایره ایستاد. اگر فاصله مربی تا مسیر چرخش بازیکنان ۴/۵ متر باشد و بازیکنان سه دور در این مسیر بچرخند، در مجموع چند متر دویده اند؟

۳ محیط دایره ای با قطر ۱۲ بزرگتر است یا مجموع محیط دو دایره یکی با شعاع ۴ و دیگری دایره ای با شعاع ۸؟

۴ فاصله خانه محمدرضا صادقی تا ورزشگاه نقش جهان $\frac{7}{8}$ کیلومتر و فاصله خانه محمد موگویی تا ورزشگاه ربع این مقدار است. فاصله خانه محمد تا ورزشگاه را پیدا کنید.



۵ کسرهای زیر را تا آنجا که ممکن است ساده کنید.

$$\frac{20 \times 45 \times 64}{60 \times 35 \times 28}$$

$$\frac{32 \times 51 \times 105}{35 \times 17 \times 40}$$

۶ به جای مربع سیاه چه عدد یا کسری باید گذاشته شود؟

$$\blacksquare + \frac{4}{7} = \frac{6}{8}$$

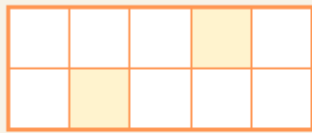
$$\blacksquare \times \frac{4}{7} = \frac{6}{8}$$

$$\frac{4}{7} \div \frac{4}{7} = \blacksquare$$

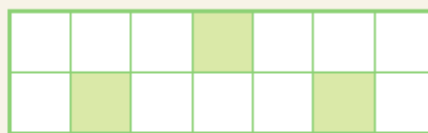
۷ در الگوی زیر در شکل پنجاهم چه کسری رنگ شده است؟



شکل اول



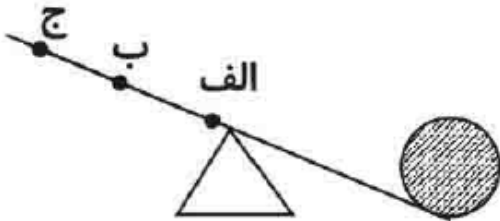
شکل دوم



شکل سوم

درس علوم

۱ در شکل زیر در کدام قسمت اهرم نیرو وارد کنیم تا بتوانیم راحت تر جسم را بلند کنیم.



۲ وظیفه پوست در بدن ما چیست؟

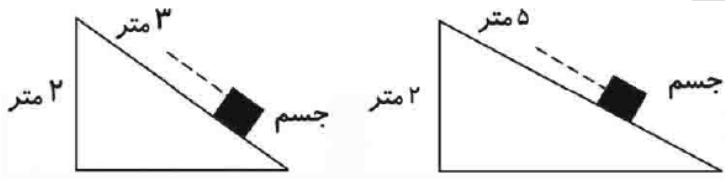
۳ چرا وقتی غذا را با قاشق در دهانمان می گذاریم ، غذا مزه دارد ولی قاشق مزه ای ندارد؟

۴ بعضی وقت ها هنگام سرماخوردگی، مزه غذاها را به خوبی درک نمی کنیم. نظر شما چیست؟

۵ حس بویایی چه کمک هایی به ما می کند؟

۶ چرا نابینایان خط بریل را با سر انگشتان خود می خوانند؟

۷ در کدام شکل بالا بردن جسم راحت تر است؟



درس فارسی

۱ آخرین کتابی که خوانده اید چه نام دارد ؟

۴ موضوع آن چه بود ؟

از کدام قسمت آن خوشتان آمده ؟

از کدام قسمت آن خوشتان نیامده است ؟ چرا؟

۵ داستانی طراحی کنید که پیام آن ضرب المثل مقابل باشد. قدرعافیت کسی داند که به مصیبتی گرفتار آید.

درس مطالعات اجتماعی

۱	سوالات زیر را به کمک پدر یا مادرتان و با استفاده از تحقیق اینترنتی پاسخ دهید. تحقیق کنید که در هر یک از سال های ۹۷ و ۹۸ بیشترین صادرات و واردات کشور ایران مربوط به چه کالاهایی بوده است؟ و با کدام کشورها؟ (۳خط)
۲	تحقیق کنید هر کدام از سازمان های زیر ، زیرمجموعه ی کدام یک از قوای سه گانه است؟ * دانشگاه ها * دیوان محاسبات * دادگاه ها * بیمارستان ها
۳	ابتدا طول و عرض جغرافیایی را برای پدر و مادر خود توضیح دهید و سپس به کمک آنها و با استفاده از سایت با حساب (www.bahesab.ir) طول و عرض جغرافیایی منزلتان را پیدا کرده و برای من ارسال کنید.

درس هدیه های آسمانی

۱	پیامبر اکرم (ص) در مورد امام زمان (عج) می فرمایند : مهدی از من و از خاندان من است . او شبیه ترین مردم به من است از نظر و و ایشان همچنین در مورد استفاده مردم از امام زمان در زمان غیبت می فرمایند : مردم در زمان غیبت امام زمان از او بهره می برند همان طور که
۲	با استفاده از روش درس ۱۳ محاسبه کنید چه مقدار حبوبات برای سبزه عید در کل کشور مصرف میشه ؟ (برای محاسبه تعداد خانواده ها و تعداد تقریبی خانواده هایی که سبزه درست می کنند و ... می تونید از پدر و مادرتون کمک بگیرید.) به نظرتون این نوع استفاده از حبوبات درسته یا اسراف به حساب میاد؟ چرا؟

محل امضای ولی :	تاریخ پاسخگویی به سوالات : تاریخ امضای ولی :
-----------------	---

با همین سرعتی که تعطیلات عید تمام شد ، فرصت ها ، کودکی ، جوانی و عمر ما نیز در حال تمام شدن است .

فرصت ها را دریابیم که مانند ابر در حال گذرند و زمانی فرا خواهد رسید که دیگر فرصتی نیست . آن گاه که که حرت است و بس ...